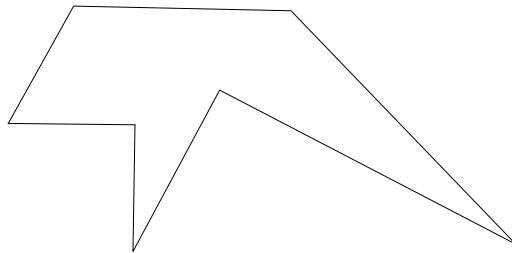




L'outil du menuisier

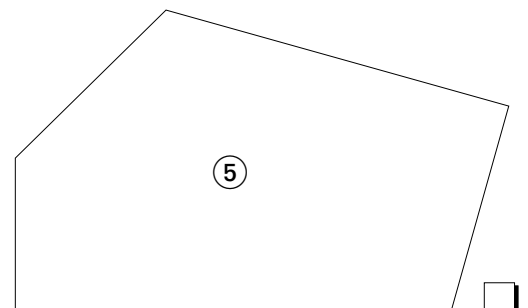
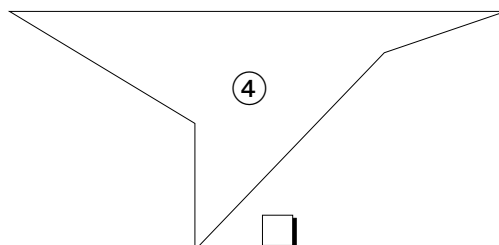
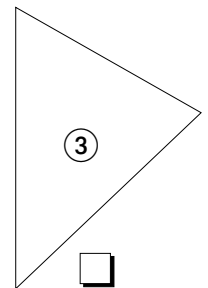
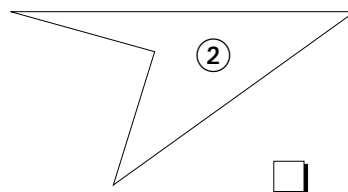
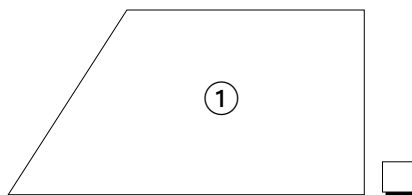
Découvrir

Le menuisier se sert souvent d'une équerre d'onglet de cette forme.



a Reproduis cette équerre sur du papier cartonné, puis découpe-la.

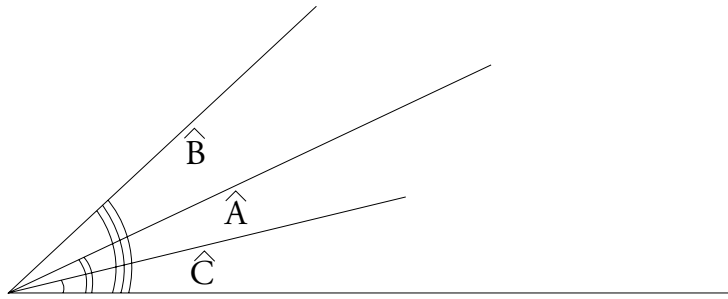
b Voici des découpes que le menuisier doit réaliser. Coche celles pour lesquelles il pourra utiliser son équerre.





Retenir

Range, du plus petit au plus grand, ces trois angles dont le sommet et un côté sont communs.



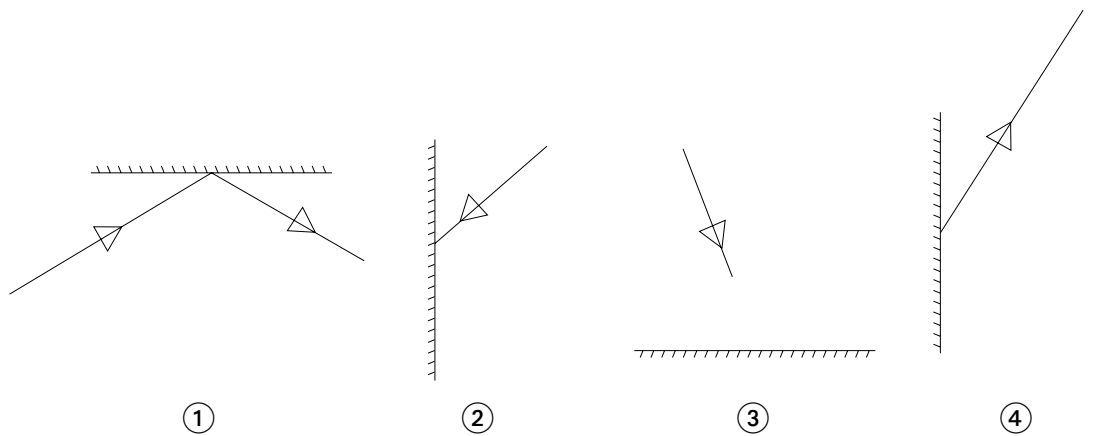
_____ < _____ < _____



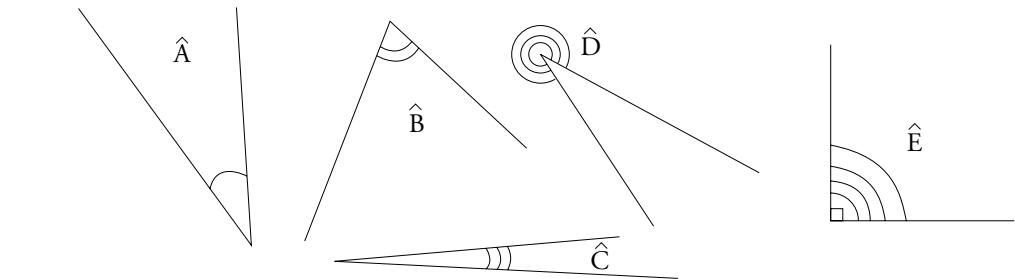
S'entraîner

1 Un rayon lumineux est réfléchi par un miroir ; l'angle que fait ce rayon avec le miroir est le même quand il arrive et quand il repart.

Observe l'exemple suivant et trace, pour chaque miroir, le rayon manquant.



2 Range les angles suivants du plus petit au plus grand.



_____ < _____ < _____ < _____ < _____

| Reproduire et comparer des angles